



T.C.
MİLLÎ EĞİTİM BAKANLIĞI
ÖLÇME, DEĞERLENDİRME VE SINAV HİZMETLERİ GENEL MÜDÜRLÜĞÜ

2024-2025 EĞİTİM VE ÖĞRETİM YILI
Sınavla Öğrenci Alacak Ortaöğretim Kurumlarına
İlişkin Merkezî Sınava Yönelik
Örnek Sorular
(SÖZEL BÖLÜM)

• Bu kitapçıkta toplam 25 soru bulunmaktadır.

- Türkçe : 10 soru
- T. C. İnkılap Tarihi ve Atatürkçülük : 5 soru
- Din Kültürü ve Ahlak Bilgisi : 5 soru
- İngilizce : 5 soru



Türkçe Örnek Soruları

1. Kafamda onlarca öykü çekirdeği var, bakalım hangi biri filizlenip gün ışığına çıkabilecek.

Altı çizili sözcüğün bu cümleye kattığı anlam aşağıdakilerin hangisinde vardır?

- A) Projenin temelini daha üniversitede okurken oluşturmuştu.
- B) Filmin en önemli sahnesi, çocuğun konuşmaya başladığı sahneydi.
- C) Yöneticimiz eleştirel düşünceleri her zaman dikkate alırdı.
- D) Yazacağı romanın ana bölümünü tamamlamış, diğer bölümlere geçmişti.

2. Aşağıdaki dizelerin hangisinde “deniz” kavramı kişileştirilmemiştir?

- A) Utandı deniz, durdu önce,
Sonra ağır ağır geriledi
- B) Deniz engin bir sudur, tuzlu, yeşil, dalgalı,
Kenarlarını süsler bazı beyaz bir yalı.
- C) Av peşinde martılar
Onlar denizle oynar, deniz onlarla
- D) Batır beni ey kederlerimin denizi!
Faydasız, denizler bile bugün yorgun.

3. I. Yüzyıllar boyunca Doğu'yla Batı arasında geçişi sağlayan bu köprü, birçok ilginç ve büyük olaya sahne olur.
II. Osmanlıda sadrazamlığa kadar yükselen Sokullu Mehmet Paşa, sadrazam olunca şimdiki adı Mehmet Paşa Köprüsü olan Drina Köprüsü'nü yaptırır.
III. Roman, köprünün yapılışından 1900'lere kadar olan tarihini Bosna tarihi üzerinden anlatır.
IV. İvo Andriç de “Drina Köprüsü” adlı eserinde roman kişisi olarak bu köprüyü seçer.
V. Eserde, bu tarihî akış içinde Bosna'daki çeşitli etnik unsurların, dinlerin, toplumların gelişimi de ayrıntılı olarak verilir.

Numaralanmış cümlelerle anlamlı bir metin oluşturulduğunda hangisi baştan dördüncü sırada yer alır?

- A) I
- B) III
- C) IV
- D) V

4. "Büyük ve süslü çadır" anlamına gelen "otağ" sözcüğü, kaynağını "ateş" anlamındaki "od" sözcüğünden alır. Günümüzde otağ sözcüğü; evin bazı bölümlerinin adı olan "oda" ile ilişkili olsa da geçmişte "ateş yakılan yer, ocak" anlamında kullanılmıştır. Nitekim ilk anlamı "ateş yakmaya yarayan yer" olan ocak sözcüğünün karşılıklarından birinin "ev, aile, soy" olması bu bağlantıyı ortaya koymaktadır. Dilimizde aile hayatının devamına ve durumuna vurgu yapan "ocağı tütme" deyimini yahut İstiklâl Marşı'nın "Korkma, sönmez bu şafaklarda yüzen al sancak; / Sönmeden yurdumun üstünde tüten en son ocak." dizeleri Türk insanının yaşadığı yerde yanan ateşle kendi kaderi arasında derin ilişkiler kurduğunun göstergesidir.

Bu metnin anlatımıyla ilgili aşağıdakilerden hangisi söylenebilir?

- A) Farklı düşünceler karşılaştırılarak bir sonuca ulaşılmıştır.
B) Güncel bir sorun sohbet havasında yorumlanmıştır.
C) Bir konu açıklayıcı bir anlatımla ele alınmıştır.
D) Bir düşünce örneklerle çürütülmeye çalışılmıştır.
5. Türk resim sanatında yeni bir dönemin öncüsü olan ve "Çallı Kuşağı" olarak da adlandırılan 1914 kuşağının özgün ressamlarından Avni Lifij'in otoportrelerinden, manzara resimlerinden ayrıca bir eleştirmen-yazar ve fotoğraf sanatçısı olarak yaptığı çalışmalardan oluşan 800'ü aşkın eseri Sakıp Sabancı Müzesi'nde sergilenmektedir.

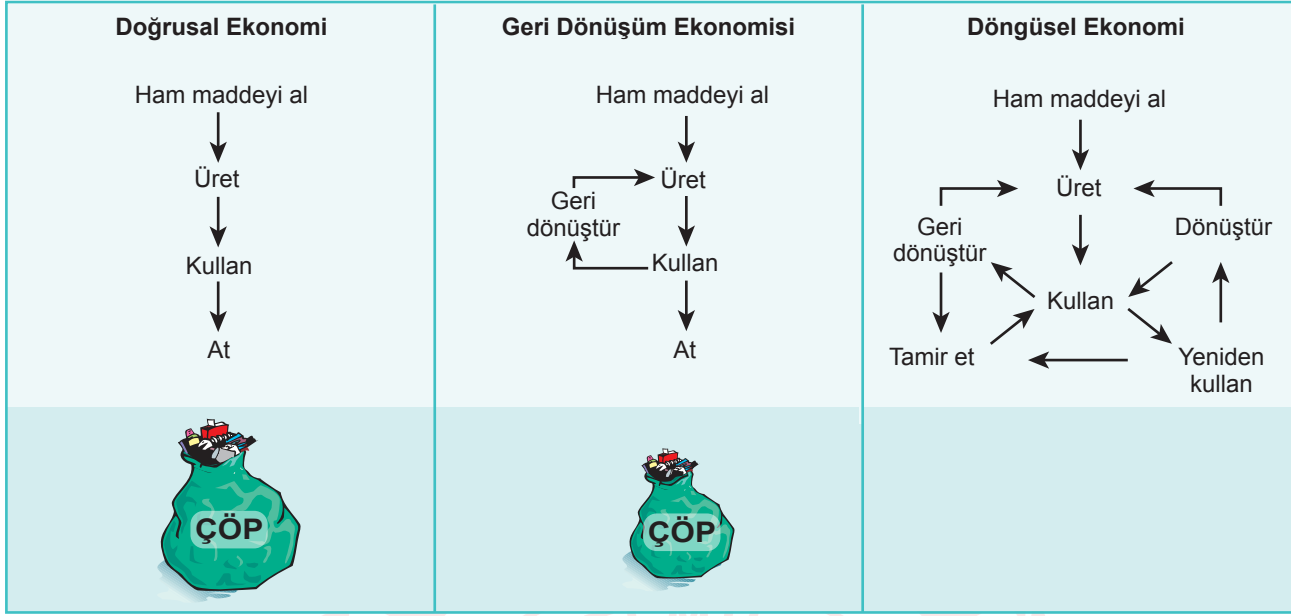
Bu cümleden "Avni Lifij" ile ilgili aşağıdaki yargılardan hangisine kesinlikle ulaşılr?

- A) Farklı sanat dallarında eserleri bulunmaktadır.
B) Çallı Kuşağı'nın en ünlü temsilcisidir.
C) Eserlerinin tamamı Sakıp Sabancı Müzesi'nde sergilenmektedir.
D) 1914 kuşağının öncüsüdür.
6. Gerçek hayatla sanat eseri arasında yakınlık arayanların, sanat eserini sanatçının hayatı ile açıklamaya çalışanların en büyük hatası sanat eserini gerçeği yansıtan bir ayna olarak görmeleridir. Bu hataya düşenler sanat eserinin alışılmış bir düzeni değiştirmekle, yeni bir anlayış, yeni bir dünya getirmekle yükümlü olduğunu göz ardı ederler. Hâliyle gerçek hayattan hareket ederek sanat eseriyle ilgili bir yargıya varmak, sanatçının hayatından işe girerek eseri anlatmaya çalışmak hep yanlış bir sonuç vermiştir. Bu nedenlerden dolayı da sanat eseri bazı kimselerce, var olanı tespit etmeye yarayan basit bir araca dönüştürülmüştür.

Aşağıdakilerden hangisi bu metinde eleştirilen bir durumdur?

- A) Sanat eserleriyle ilgili olumsuz yorumların sanatın gelişimine engel olması
B) Sanat eserlerini eleştirenlerin tarafsız davranmaması
C) Sanat eseri değerlendirilirken sanatçının hayatından bağımsız düşünülmemesi
D) Sanatçıların, sanat eseriyle yeni bir hayat görüşü sunmaması

7. Ekonomi türleri aşağıdaki görselde verilmiştir:



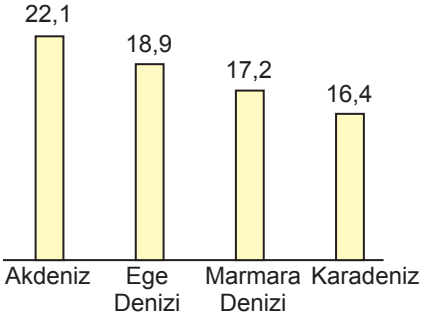
Buna göre, ekonomi türlerindeki “Ham maddeyi al ve üret.” aşamalarının gerçekleştiği varsayıldığında aşağıdakilerden hangisi geri dönüşüm ekonomisinin örneği olabilir?

- A) Kağan, sürekli reklamı yapılan bir kazağı satın alır. Kazağı uzun bir süre giydikten sonra kendisine küçük gelmeye başladığını görür. Bu yüzden kazağı kardeşine verir. Kardeşi de bir süre giydikten sonra eskiyen kazağı çöp kutusuna bırakır.
- B) Aybike, bozulan cep telefonunu yaptırır. Cep telefonunu yaptırdıktan sonra tekrar bozulduğu için onu atmak yerine bir firmanın “Eskisini getir, yenisini uygun fiyata götür.” kampanyasından yararlanır. Firma geri aldığı ürünü dönüştürerek ekonomiye yeniden kazandırır. Böylelikle Aybike, giderek tükenen kaynaklar sorununun çözümüne katkıda bulunan bilinçli bir vatandaşı olur.
- C) Banuçiçek, doğanın korunması ve tüketimin azaltılması farkındalığıyla evdeki kullanılmayan pet şişeleri atmayıp bu şişelerden saksı ve kalemlik yaptı. Böylelikle Banuçiçek geçmiş kuşaklardan miras aldığı dünyayı ayakta tutmak için bir katkıda bulundu.
- D) Tuğra, ailesinin aldığı beyaz eşya kutularını kullanarak bahçesindeki kediler için ev yaptı. Böylece doğaya katkıda bulunmak istedi ancak yağmur sebebiyle kedi evleri ıslanınca onları çöpe atmak zorunda kaldı.

8. Aşağıdaki cümlelerin hangisinde sıfat-fiil vardır?

- A) Kar tanelerinin yapısı incelendiğinde farklı geometrik şekiller görülür.
- B) Rüzgârla taşınan devasa toz kütleleri, Amazon'daki bitkileri büyütüyor.
- C) Doktor, ayağımın röntgenini çekmek için yarım saat kadar uğraştı.
- D) Dolandırıcılar kredi kartlarını kopyalayarak birçok kişiyi dolandırmış.

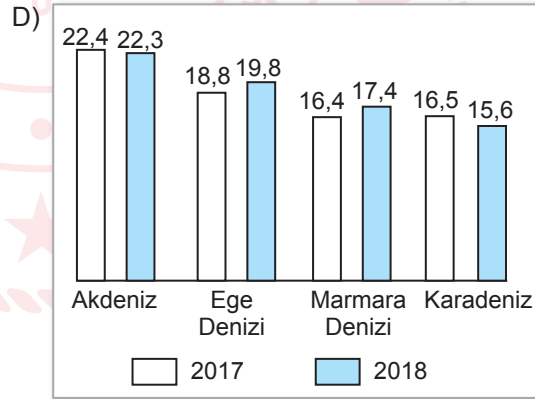
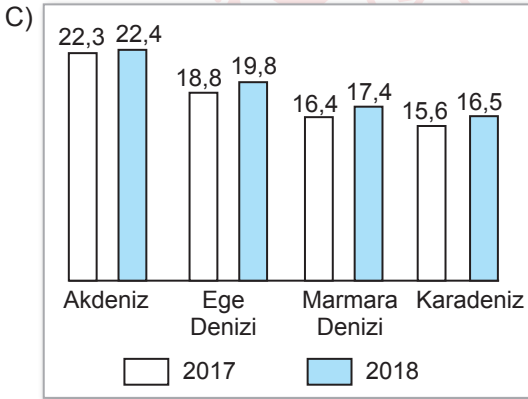
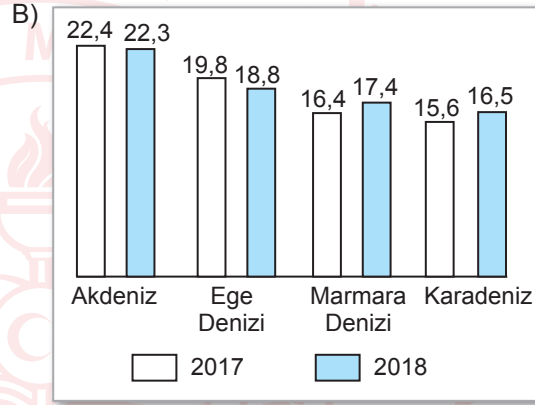
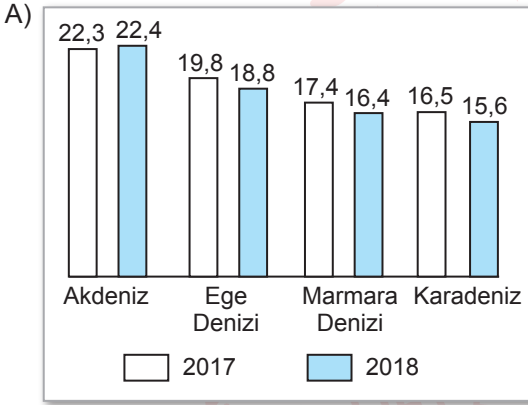
9. 2016 Yılı Deniz Suyu Sıcaklık Ortalamaları (°C)



2016-2018 yılları denizlerimizdeki ortalama sıcaklık değerleriyle ilgili bilinenler şunlardır:

- Sadece Akdeniz'de deniz suyu sıcaklık ortalaması sürekli artış göstermiştir.
- Akdeniz haricindeki diğer denizlerimizde en düşük deniz suyu sıcaklığı ortalaması 2017 yılına aittir.

Buna göre, denizlerimizdeki 2017-2018 yıllarına ait deniz suyu sıcaklık (°C) ortalaması grafiği aşağıdakilerden hangisi olabilir?



10. Aşağıdaki cümlelerin hangisinde yazım yanlışı yoktur?

- A) Şunu anladımki sen olmadan bu yol çekilmiyor.
B) Çok sevdiği bu güzel memleketi küçük yaşta terketti.
C) İş için Güneydoğu Asya ülkelerine seyahat edecekmış.
D) 11 ağustos günü tekrar buluşmak üzere ayrıldık.

T.C. İnkılap Tarihi ve Atatürkçülük Örnek Soruları

1. Fransız İhtilali ile yayılan milliyetçilik akımı, Avrupa'daki kuvvetler dengesini büyük ölçüde değiştirerek yeni ulus devletlerin kurulmasına yol açtı. XIX. yüzyılda sanayileşmenin hız kazanması ise Avrupa'yı dünyanın sermaye, sanayi ve üretim merkezi hâline getirdi.

Bu metinde Birinci Dünya Savaşı'nın başlamasına neden olan hangi faktörler vurgulanmıştır?

- A) Dinî - Siyasi
B) Siyasi - Ekonomik
C) Hukuki - Askerî
D) Ekonomik - Hukuki

2. "Şuna da inanıyorum ki, eğer devamlı barış isteniyorsa kitlelerin durumlarını iyileştirecek uluslararası önlemler alınmalıdır. İnsanlığın bütününün refahı, açlık ve baskının yerine geçmelidir. Dünya vatandaşları kıskançlık, açgözlülük ve kinden uzaklaşacak şekilde eğitilmelidir."

Mustafa Kemal'in bu sözlerinden hareketle aşağıdaki yargılardan hangisine ulaşılabilir?

- A) Sürdürülebilir barışın sağlanması için evrensel adımlar atılmalıdır.
B) Dış politikada millî menfaatler ön plana çıkarılmalıdır.
C) Devletler arası sorunların çözümünde karşılıklılık ilkesi esas alınmalıdır.
D) Gerektiğinde ülkelerin bölgesel sorunları göz ardı edilmelidir.

3. Başkomutanlık Yasası'nın çıkarılmasıyla ilgili Mustafa Kemal Paşa'nın Meclis'e verdiği önerge şöyledir:

Türkiye Büyük Millet Meclisi Yüksek Başkanlığına,

Meclis üyelerinin genel olarak beliren istek ve talepleri üzerine Başkomutanlığı kabul ediyorum. Bu görevi, kendi üzerime almaktan doğacak yararların çarçabuk elde edilebilmesi, ordunun maddi ve manevi gücünün en kısa zamanda artırılıp pekiştirilmesi ve yönetiminin bir kat daha sağlamlaştırılması için Türkiye Büyük Millet Meclisi'nin yetkilerini fiilen kullanmak koşuluyla üzerime alıyorum. Yaşadığım sürece, ulusal egemenliğe gerçek bir hizmetkâr olduğumu, millete bir kez daha göstermek için, bu yetkinin üç ay gibi kısa bir süre ile sınırlandırılmasını ayrıca dilerim.

Bu önergeye göre Başkomutanlık Yasası ile ilgili aşağıdakilerden hangisi söylenemez?

- A) Ordunun ihtiyaçlarını daha hızlı karşılamak amacıyla çıkarılmıştır.
B) Mustafa Kemal'e başkomutanlık yetkisinin verilmesinde milletvekilleri etkili olmuştur.
C) Başkomutanına tek başına karar verme ve uygulama imkanı sağlamıştır.
D) Ülkedeki iki başlılığı ortadan kaldırarak rejim tartışmalarını sona erdirmiştir.

4. Halkçılık, hürriyet ve toplumsal düzenin sağlanmasını amaçlar. Ancak halkçılık ile hiçbir zaman sonsuz bir hürriyet söz konusu olmamıştır. Bu kavram, kanunların çizdiği sınırlar çerçevesinde insanların özgürlüklerini kullanmalarını ve demokratik olmalarını öngörmüştür. Bu anlamda halkçılık, fertlerin belli bir düzen ve disiplin içinde yaşamalarını ifade eder.

Bu metinde “Halkçılık” ilkesinin toplumda etkili olması aşağıdaki şartlardan hangisinin gerçekleşmesine bağlanmıştır?

- A) Millî bir kimliğin oluşturulması ve geliştirilmesine
- B) Herkesin hukuk kurallarına uymasına
- C) Belli bir sınıfa dayalı devlet düzeninin oluşmasına
- D) Ekonomik seviyenin yükseltilmesine



5. “Türkiye Cumhuriyeti’nde temel insan hak ve hürriyetleri, dünyadaki çağdaş toplumlarla uyumlu bir biçimde güvenceye alınmıştır.” **diyen bir tarihçi, Cumhuriyetçilik ilkesinin hangi yönüne vurgu yapmıştır?**

- A) Evrenselliğine
- B) Barışçılığına
- C) Milliliğine
- D) Bağımsızlığına

Din Kültürü ve Ahlak Bilgisi Örnek Soruları

1. "Allah'tan başka hiçbir ilah yoktur. O daima diridir, bütün varlığın idaresini yürütendir. O'nu ne uyuklama tutar ne de uyku. Göklerde ve yerde ne varsa hepsi O'nundur. İzni olmadan huzurunda şefaath edecek olan kimdir? O, kullarının yaptıklarını da yapacaklarını da bilir. Fakat insanlar, Allah'ın ilminden sadece O'nun dilediği kadarını kavrayabilirler. O'nun sonsuz kudreti, gökleri ve yeri kaplar. Onları görüp gözetmek kendisine ağır gelmez. Gerçekten yüce ve büyük olan yalnızca O'dur."

(Bakara suresi, 255. ayet)

Bu ayette aşağıdakilerden hangisi vurgulanmaktadır?

- A) Tevhit B) Cüzi irade C) Tevekkül D) Toplumsal yasa

2. (I) Zekât, mal ile yapılan farz bir ibadettir. (II) Müslüman, akıllı, ergenlik çağına ulaşmış ve nisap miktarı mala sahip kişi, bu ibadetten sorumludur. (III) Ramazan ayında verilmesi şarttır. (IV) Kimlere verilmesi gerektiği Kur'an-ı Kerim'de bildirilmiştir.

Numaralanmış cümlelerin hangisinde zekât ile ilgili yanlış bir bilgi bulunmaktadır?

- A) I B) II C) III D) IV

3. "...Namaz kıl. Çünkü namaz, insanı çirkin işlerden ve kötülüklerden alıkoyar..."

(Ankebût suresi, 45. ayet)

"Yalan söylemeyi alışkanlık hâline getiren kişinin tuttuğu oruca Allah'ın ihtiyacı yoktur."

(Hadis)

Bu ayet ve hadiste ibadetlerle ilgili asıl anlatılmak istenen aşağıdakilerden hangisidir?

- A) Değişik şekillerde yerine getirilir.
- B) Günahların affedilmesine vesile olur.
- C) Allah ile iletişim kurma yollarındandır.
- D) Güzel ahlak ile amacına ulaşır.

4. Bir gün Hz. Muhammed (sav) birinin bahçesinde çelimsiz ve bitkin bir deve görür. Yanına giderek ona sevgi ve merhamet gösterir. Sonra devenin sahibine "Bu deveyi aç ve yorgun bırakırken Allah'tan korkmuyor musun?" uyarısında bulunur.

Bu metinden Hz. Muhammed (sav) ile ilgili,

- I. Yardımlaşmaya teşvik etmiştir.
- II. Hakkın gözetilmesine önem vermiştir.
- III. İnsanlara hoşgörülle yaklaşmıştır.
- IV. Olaylar karşısında duyarlı davranmıştır.

yargılarından hangilerine ulaşılır?

- A) I ve II
- B) I ve III
- C) II ve IV
- D) III ve IV

5. Kur'an-ı Kerim'de inanç, ibadet, ahlak, sosyal hayat ve kıssalar ile ilgili ayetler bulunmaktadır.

Buna göre Kur'an-ı Kerim ile ilgili çıkarılabilecek en kapsamlı yargı aşağıdakilerden hangisidir?

- A) İman esaslarının temel kaynağıdır.
- B) Hayatın çeşitli alanlarıyla ilgili bilgiler içerir.
- C) Geçmiş toplulukların tecrübelerinden ders çıkarılmasını ister.
- D) İnsanların birbirlerine karşı sorumluluklarını öğretir.

► Yabancı Dil (İngilizce) Örnek Soruları

1. **Tom** : Hello friends! I'm having a party for my brother on Sunday. Would you like to come?

Lisa : I have lots of homework to do, but I will come.

Sandy : I'd love to, but I must finish my project.

Max : I love parties, but I have other plans on Sunday.

John : I am busy this week, but I will come to your party.

According to the conversation above, which two people accept the invitation?

- A) John and Lisa
- B) Lisa and Sandy
- C) Max and John
- D) Sandy and Max

2. Nancy wants to create a password for her email account. Below, you see the rules to create the password:

USE:

1. more than three letters.
2. punctuation.

DO NOT USE:

3. your name.
4. more than two numbers.

Nancy tried to create the following password:

dgcb-4585

Which of the rules did Nancy NOT obey when she tried to create her password?

- A) Rule 1
- B) Rule 2
- C) Rule 3
- D) Rule 4

3.

Put the flour into a bowl.

Add water and salt to the flour.

Cut the dough into small pieces.

Bake the pieces.

Which of the following pictures does NOT match with any of the steps above?

A)



B)



C)



D)



4. Mandy and her family live in Istanbul. They are going to Antalya on November 4 and fly back home on November 9. Mandy is searching for flight tickets on a website. She is going to buy four tickets for herself, her husband and their children.

Which of the following websites shows all the correct information in the text above?

A)

| | | |
|---------------------------|--------------------------------|--------------------------------|
| https://bestairflight.com | | ψ + x |
| From : Antalya | To : Istanbul | |
| Date : November 4, 2024 | | |
| From : Istanbul | To : Antalya | |
| Date : November 9, 2024 | | |
| Adults | <input type="text" value="2"/> | <input type="text" value="2"/> |
| Children | <input type="text" value="2"/> | <input type="text" value="2"/> |

B)

| | | |
|---------------------------|--------------------------------|--------------------------------|
| https://bestairflight.com | | ψ + x |
| From : Istanbul | To : Antalya | |
| Date : November 4, 2024 | | |
| From : Antalya | To : Istanbul | |
| Date : November 9, 2024 | | |
| Adults | <input type="text" value="2"/> | <input type="text" value="2"/> |
| Children | <input type="text" value="4"/> | <input type="text" value="4"/> |

C)

| | | |
|---------------------------|--------------------------------|--------------------------------|
| https://bestairflight.com | | ψ + x |
| From : Istanbul | To : Antalya | |
| Date : November 4, 2024 | | |
| From : Antalya | To : Istanbul | |
| Date : November 9, 2024 | | |
| Adults | <input type="text" value="2"/> | <input type="text" value="2"/> |
| Children | <input type="text" value="2"/> | <input type="text" value="2"/> |

D)

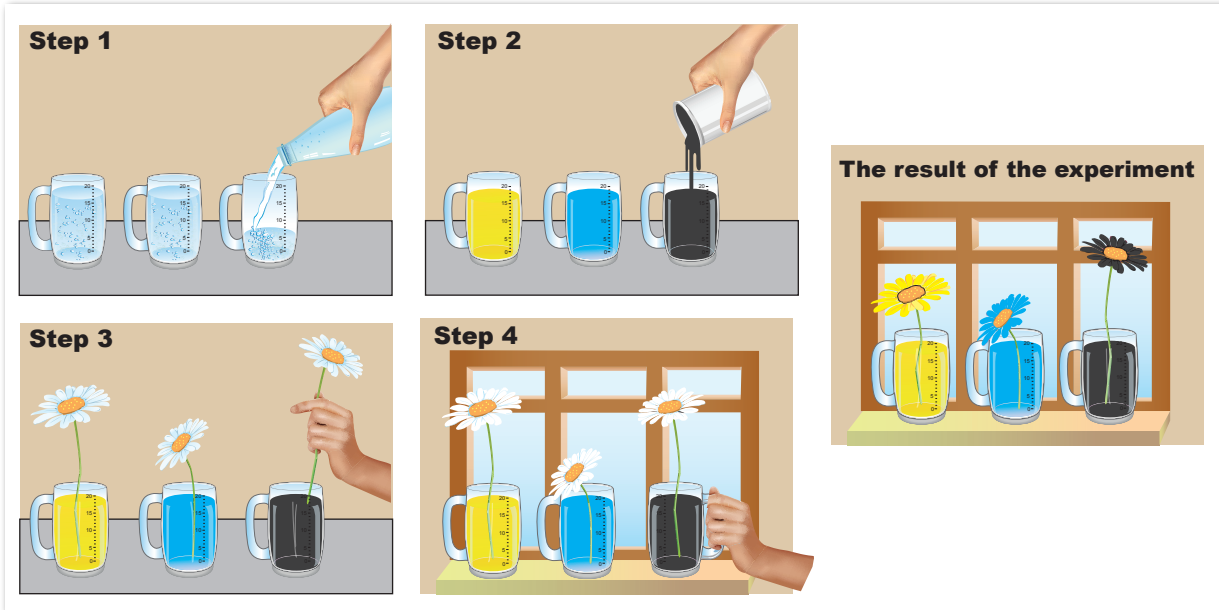
| | | |
|---------------------------|--------------------------------|--------------------------------|
| https://bestairflight.com | | ψ + x |
| From : Antalya | To : Istanbul | |
| Date : November 4, 2024 | | |
| From : Istanbul | To : Antalya | |
| Date : November 9, 2024 | | |
| Adults | <input type="text" value="2"/> | <input type="text" value="2"/> |
| Children | <input type="text" value="4"/> | <input type="text" value="4"/> |

5. Below, you see the equipment, chemical substances and the steps of an experiment.

Equipment and chemical substances:

- 3 cups
- 3 white flowers
- some water
- chemical substances that change the flowers' colors (3 different colors)

Steps of the experiment:



After Step 3, you should - - - .

- A) put the flowers in the cups
- B) pour some water into the cups
- C) put the cups with the flowers in front of the window
- D) add the chemical substances into the cups to change the color of the flowers

CEVAP ANAHTARI

TÜRKÇE

1. A
2. B
3. B
4. C
5. A
6. C
7. D
8. B
9. C
10. C

T.C. İNKILAP TARİHİ VE ATATÜRKÇÜLÜK

1. B
2. A
3. D
4. B
5. A

DİN KÜLTÜRÜ VE AHLAK BİLGİSİ

1. A
2. C
3. D
4. C
5. B

YABANCI DİL (İNGİLİZCE)

1. A
2. D
3. B
4. C
5. C



Soruların çözüm videosunu izlemek için karekodu okutabilirsiniz.